



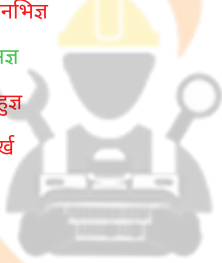
केन्द्रीय रिजर्व पुलिस बल CENTRAL RESERVE POLICE FORCE

Test Date	26/02/2023
Test Time	12:30 PM - 02:00 PM
Subject	Head Constable Ministerial

Section : Hindi Language

Q.1 वाक्य के रिक्त स्थान के लिए उपयुक्त विकल्प चुनकर वाक्य पूर्ण करें।
छोटा बच्चा _____ होता है।

- Ans
- A. अनभिज्ञ
 - B. अज्ञ
 - C. बहुज्ञ
 - D. मूर्ख



INDIA

Question ID : 630680177098

Status : Answered

Chosen Option : A

Q.2 निम्न में से कौन-सा वाक्य हेतु हेतुमद् भविष्य का उदाहरण है।

- Ans
- A. हिमांशु गीत गायेगा।
 - B. वह चले जाएँ तो मैं बैठूँ।
 - C. राम स्कूल जायेगा।
 - D. लगता है, राजेश कल आये।

Question ID : 630680177111

Status : Answered

Chosen Option : B

Q.3 वाक्य विन्यास की दृष्टि से शुद्ध वाक्य का चयन कीजिए।

- Ans
- A. कि प्राण भले ही जाएँ वचन न जाए रघुकुल की यह थी मर्यादा।
 - B. प्राण भले ही जाएँ वचन न जाए रघुकुल की यह मर्यादा थी कि।
 - C. रघुकुल की यह मर्यादा थी कि प्राण भले ही जाएँ वचन न जाए।
 - D. रघुकुल की यह थी मर्यादा कि प्राण भले ही जाएँ वचन न जाए।

Question ID : 630680177094

Status : Answered

Chosen Option : C

Q.4 वर्तनी की दृष्टि से दिए गए वाक्य का कौन-सा शब्द अशुद्ध है।
थियेटर में अभीनेता का अभिनय अत्युत्तम था।

- Ans A. अभिनय
 B. अभीनेता
 C. थियेटर
 D. अत्युत्तम

Question ID : 630680177054
Status : Answered
Chosen Option : B

Q.5 निम्नलिखित में से सही लोकोक्ति का चयन करें।

- Ans A. कहने से धोबी ऊँट पर नहीं चढ़ता
 B. कहने से धोबी घोड़े पर नहीं चढ़ता
 C. कहने से धोबी गधे पर नहीं चढ़ता
 D. कहने से धोबी हाथी पर नहीं चढ़ता

Question ID : 630680177064
Status : Answered
Chosen Option : C

Q.6 वाक्य विन्यास की दृष्टि से शुद्ध वाक्य का चयन कीजिए।

- Ans A. लेखक और प्रकाशक में हुआ करार कि उन्हें इतनी रॉयल्टी मिलेगी।
 B. कि उन्हें इतनी रॉयल्टी मिलेगी लेखक और प्रकाशक में हुआ करार।
 C. लेखक और प्रकाशक में करार हुआ कि उन्हें इतनी रॉयल्टी मिलेगी।
 D. करार हुआ कि उन्हें इतनी रॉयल्टी मिलेगी लेखक और प्रकाशक में

Question ID : 630680177092
Status : Answered
Chosen Option : C

Q.7 'वह द्वार-द्वार भीख माँगता चलता है।' वाक्य में कारक है।

- Ans A. सम्बोधनकारक
 B. अधिकरणकारक
 C. अपादानकारक
 D. सम्बंधकारक

Question ID : 630680177119
Status : Answered
Chosen Option : B

Q.8 वाक्य के रिक्त स्थान के लिए उपयुक्त विकल्प चुनकर वाक्य पूर्ण करें।
गीता की _____ थी कि उसके पिता उसे आज घुमाने ले जाते।

- Ans
- A. आकांक्षा
 - B. अभिलाषा
 - C. इच्छा
 - D. कामना

Question ID : 630680177101
Status : Answered
Chosen Option : C

Q.9 निम्न में से पूर्वकालिक क्रिया किस वाक्य में प्रयुक्त हुई है।

- Ans
- A. मैं चल सकता हूँ।
 - B. पड़ोसियों से बराबर मिलते-जुलते रहो।
 - C. वह भोजन कर के नहाया।
 - D. टहलना स्वास्थ्य के लिए अच्छा है।

Question ID : 630680177120
Status : Answered
Chosen Option : C

Q.10 वाक्य के रिक्त स्थान के लिए उपयुक्त विकल्प चुनकर वाक्य पूर्ण करें।
झंडु _____ से च्यवनप्राश और शंखपुष्पी आसव लाना है।

- Ans
- A. प्रयोगशाला
 - B. आयुधशाला
 - C. चिकित्सालय
 - D. औषधालय

INDIA

Question ID : 630680177083
Status : Answered
Chosen Option : D

Q.11 वाक्य विन्यास की दृष्टि से शुद्ध वाक्य का चयन कीजिए।

- Ans
- A. निंदा करने से अच्छे आदमी की कुछ नहीं बिगड़ता उसका।
 - B. अच्छे आदमी की निंदा करने से उसका कुछ नहीं बिगड़ता।
 - C. निंदा करने से उसका कुछ नहीं बिगड़ता अच्छे आदमी की।
 - D. कुछ नहीं बिगड़ता उसका निंदा करने से अच्छे आदमी की।

Question ID : 630680177069
Status : Answered
Chosen Option : B

Q.12 निम्नलिखित में से 'शुद्ध' का पर्यायवाची नहीं है।

- Ans A. विमल
 B. निर्मल
 C. खर
 D. स्वच्छ

Question ID : 630680177044
Status : Answered
Chosen Option : C

Q.13 वर्तनी की दृष्टि से दिए गए वाक्य का कौन-सा शब्द अशुद्ध है।
अस्वस्थ बच्चे को सदैव पौष्टिक अहार देना चाहिए।

- Ans A. अस्वस्थ
 B. सदैव
 C. पौष्टिक
 D. अहार

Question ID : 630680177058
Status : Answered
Chosen Option : D

Q.14 निम्न में से कौन-सा वाक्य सम्भाव्य वर्तमान का उदाहरण है।

- Ans A. वह बहुत थका था शायद लेटा हो।
 B. वह बहुत थका था सोता है।
 C. वह बहुत थका था सो गया।
 D. वह बहुत थका था लेटा होगा।

Question ID : 630680177104
Status : Answered
Chosen Option : A

Q.15 वाक्य के रिक्त स्थान के लिए उपयुक्त विकल्प चुनकर वाक्य पूर्ण करें।
शिव को पति रूप में पाने के लिए सती ने _____ की।

- Ans A. उपासना
 B. अर्चना
 C. आराधना
 D. पूजा

Question ID : 630680177085
Status : Answered
Chosen Option : A

Q.16 निम्न में से कालवाचक सम्बंधबोधक अव्यय शब्द है।

- Ans A. अनंतर
 B. अलावा
 C. आरपार
 D. कारण

Question ID : 630680177112

Status : Not Attempted and
Marked For Review

Chosen Option : --

Q.17 वाक्य के रिक्त स्थान के लिए उपयुक्त विकल्प चुनकर वाक्य पूर्ण करें।
गौतम मीरा के _____ सौंदर्य पर मोहित हो गया।

- Ans A. अनोखे
 B. निराले
 C. नवीन
 D. अनुपम

Question ID : 630680177081

Status : Answered

Chosen Option : D

Q.18 'प्रतिकूल होना' के अर्थ में निम्नलिखित में से किस मुहावरे का प्रयोग होगा-

- Ans A. आँखें बिछाना
 B. आँखें फेर लेना
 C. आँखों का काजल चुराना
 D. आँख उठाकर न देखना

Question ID : 630680177060

Status : Answered

Chosen Option : B

Q.19 निम्नलिखित में से 'कुबेर' का पर्यायवाची है।

- Ans A. धनेश
 B. जयेश
 C. वागीश
 D. रमेश

Question ID : 630680177046

Status : Answered

Chosen Option : A

Q.20 वाक्य विन्यास की दृष्टि से शुद्ध वाक्य का चयन कीजिए।

- Ans A. अब दिखाई दे रहे थे चाबुक से शरीर पर पड़े हुए निशान उसके।
 B. चाबुक से उसके शरीर पर पड़े हुए निशान अब दिखाई दे रहे थे।
 C. अब दिखाई दे रहे थे उसके शरीर पर पड़े हुए निशान चाबुक से।
 D. चाबुक से अब दिखाई दे रहे थे उसके शरीर पर पड़े हुए निशान।

Question ID : 630680177073

Status : Answered

Chosen Option : B

Comprehension:

नीचे दिए गये गद्य को पढ़े और पुछे गये प्रश्नों के उत्तर दें:

महात्मा गाँधी की विचार पद्धति का व्यापक नाम गाँधीवाद है। मार्क्सवाद के समान कोई व्यवस्थित शास्त्रीय अध्ययन गाँधीवाद के पीछे नहीं है, इसी कारण उसमें किसी प्रकार की तर्कजन्य पद्धति का अभाव है। उसका आधार तर्क नहीं, स्वानुभूति है। इस विचार का प्रत्येक खंड आत्मशक्ति को लेकर चलता है। इसी कारण उसमें एक प्रकार की आध्यात्मिकता और विचार-स्वातंत्र्य है। गाँधीवाद को किशोरीलाल मशरूवाला ने तीन भागों में विभक्त किया है- वर्णव्यवस्था, दूस्तीशिप, विकेंद्रीकरण। वर्णव्यवस्था के अंतर्गत उन्होंने पारिश्रमिक की समानता का प्रस्ताव किया। दूस्तीशिप के अंतर्गत आत्मविश्वास के साथ समस्त प्राणिमात्र के कल्याण के लिए कार्य करना होता है। विकेंद्रीकरण के अंतर्गत उद्योगों का ही नहीं, राजसत्ता का भी विकेंद्रीकरण उनका अपना अभीप्सित था। गाँधीवाद की सबसे बड़ी देन उसकी यह विचारधारा है कि हमको साध्य के साथ-साथ साधन की पवित्रता का भी ध्यान रखना चाहिए। सर्वोदय गाँधी का सामाजिक आदर्श है। गाँधीवाद के मूल स्तंभ दो हैं, सत्य और अहिंसा। उन्होंने अहिंसा को सत्य का दूसरा पहलू कहा है। अहिंसा में प्रेम की संप्राप्ति भी है। यह प्रेम स्वार्थ, मोह, आसक्ति आदि से भिन्न होता है। इस अहिंसा में बैर-त्याग, चराचर प्रेम और पूर्ण निष्काम भाव का समन्वय है। ऐसी अहिंसा की प्राप्ति के लिए गाँधी ने आत्मशुद्धि को आवश्यक माना है और इसके लिए अहं के त्याग को अनिवार्य माना है। मार्क्सवाद के साम्यवाद के प्रति गाँधीजी का दृष्टिकोण सकारात्मक था किंतु इसका कारण था वर्गहीन समाज का आदर्श।

SubQuestion No : 21

Q.21 गाँधीजी के सामाजिक आदर्श सर्वोदय से क्या आशय है?

- Ans A. विशिष्ट वर्ग का उत्थान होना।
 B. अमीरों द्वारा गरीबों को सहयोग प्रदान करना।
 C. सबकी उन्नति होना।
 D. सरकार द्वारा समाज कल्याण के लिए कार्य करना।

Question ID : 630680177145

Status : Answered

Chosen Option : A

Comprehension:

नीचे दिए गये गद्य को पढ़ें और पूछे गये प्रश्नों के उत्तर दें:

महात्मा गाँधी की विचार पद्धति का व्यापक नाम गाँधीवाद है। मार्क्सवाद के समान कोई व्यवस्थित शास्त्रीय अध्ययन गाँधीवाद के पीछे नहीं है, इसी कारण उसमें किसी प्रकार की तर्कजन्य पद्धति का अभाव है। उसका आधार तर्क नहीं, स्वानुभूति है। इस विचार का प्रत्येक खंड आत्मशक्ति को लेकर चलता है। इसी कारण उसमें एक प्रकार की आध्यात्मिकता और विचार-स्वातंत्र्य है। गाँधीवाद को किशोरीलाल मशरूवाला ने तीन भागों में विभक्त किया है- वर्णव्यवस्था, टूस्टीशिप, विकेंद्रीकरण। वर्णव्यवस्था के अंतर्गत उन्होंने पारिश्रमिक की समानता का प्रस्ताव किया। टूस्टीशिप के अंतर्गत आत्मविश्वास के साथ समस्त प्राणिमात्र के कल्याण के लिए कार्य करना होता है। विकेंद्रीकरण के अंतर्गत उद्योगों का ही नहीं, राजसत्ता का भी विकेंद्रीकरण उनका अपना अभीप्सित था। गाँधीवाद की सबसे बड़ी देन उसकी यह विचारधारा है कि हमको साथ के साथ-साथ साधन की पवित्रता का भी ध्यान रखना चाहिए। सर्वोदय गाँधी का सामाजिक आदर्श है। गाँधीवाद के मूल स्तंभ दो हैं, सत्य और अहिंसा। उन्होंने अहिंसा को सत्य का दूसरा पहलू कहा है। अहिंसा में प्रेम की संप्राप्ति भी है। यह प्रेम स्वार्थ, मोह, आसक्ति आदि से भिन्न होता है। इस अहिंसा में बैर-त्याग, चराचर प्रेम और पूर्ण निष्काम भाव का समन्वय है। ऐसी अहिंसा की प्राप्ति के लिए गाँधी ने आत्मशुद्धि को आवश्यक माना है और इसके लिए अहं के त्याग को अनिवार्य माना है। मार्क्सवाद के साम्यवाद के प्रति गाँधीजी का दृष्टिकोण सकारात्मक था किंतु इसका कारण था वर्गहीन समाज का आदर्श।

SubQuestion No : 22

Q.22 गाँधीवाद के संदर्भ में असत्य है।

- Ans
- A. यह महात्मा गाँधी की विचार पद्धति का व्यापक नाम है।
 - B. गाँधीजी अहिंसा में घृणा एवं द्वेष के अभाव के साथ-साथ प्रेम की संप्राप्ति भी स्वीकारते हैं।
 - C. मार्क्स के साम्यवाद के प्रति गाँधीजी का दृष्टिकोण नकारात्मक था।
 - D. वर्णव्यवस्था, टूस्टीशिप तथा विकेंद्रीकरण गाँधीवाद के तीन अवयव हैं।

Question ID : 630680177147

Status : Answered

Chosen Option : C

Comprehension:

नीचे दिए गये गद्य को पढ़ें और पूछे गये प्रश्नों के उत्तर दें:

महात्मा गाँधी की विचार पद्धति का व्यापक नाम गाँधीवाद है। मार्क्सवाद के समान कोई व्यवस्थित शास्त्रीय अध्ययन गाँधीवाद के पीछे नहीं है, इसी कारण उसमें किसी प्रकार की तर्कजन्य पद्धति का अभाव है। उसका आधार तर्क नहीं, स्वानुभूति है। इस विचार का प्रत्येक खंड आत्मशक्ति को लेकर चलता है। इसी कारण उसमें एक प्रकार की आध्यात्मिकता और विचार-स्वातंत्र्य है। गाँधीवाद को किशोरीलाल मशरूवाला ने तीन भागों में विभक्त किया है- वर्णव्यवस्था, टूस्टीशिप, विकेंद्रीकरण। वर्णव्यवस्था के अंतर्गत उन्होंने पारिश्रमिक की समानता का प्रस्ताव किया। टूस्टीशिप के अंतर्गत आत्मविश्वास के साथ समस्त प्राणिमात्र के कल्याण के लिए कार्य करना होता है। विकेंद्रीकरण के अंतर्गत उद्योगों का ही नहीं, राजसत्ता का भी विकेंद्रीकरण उनका अपना अभीप्सित था। गाँधीवाद की सबसे बड़ी देन उसकी यह विचारधारा है कि हमको साथ के साथ-साथ साधन की पवित्रता का भी ध्यान रखना चाहिए। सर्वोदय गाँधी का सामाजिक आदर्श है। गाँधीवाद के मूल स्तंभ दो हैं, सत्य और अहिंसा। उन्होंने अहिंसा को सत्य का दूसरा पहलू कहा है। अहिंसा में प्रेम की संप्राप्ति भी है। यह प्रेम स्वार्थ, मोह, आसक्ति आदि से भिन्न होता है। इस अहिंसा में बैर-त्याग, चराचर प्रेम और पूर्ण निष्काम भाव का समन्वय है। ऐसी अहिंसा की प्राप्ति के लिए गाँधी ने आत्मशुद्धि को आवश्यक माना है और इसके लिए अहं के त्याग को अनिवार्य माना है। मार्क्सवाद के साम्यवाद के प्रति गाँधीजी का दृष्टिकोण सकारात्मक था किंतु इसका कारण था वर्गहीन समाज का आदर्श।

SubQuestion No : 23

Q.23 गाँधीवाद और मार्क्सवाद में समानता परिलक्षित होती है।

- Ans
- A. विचारधारा के पीछे व्यवस्थित शास्त्रीय अध्ययन होने के आधार पर।
 - B. आध्यात्मिकता एवं विचार-स्वातंत्र्य के आधार पर।
 - C. वर्गहीन समाज के आदर्श के आधार पर।
 - D. स्वानुभूति के आधार पर।

Question ID : 630680177144

Status : Answered

Chosen Option : B

Comprehension:

नीचे दिए गये गद्य को पढ़ें और पूछे गये प्रश्नों के उत्तर दें:

महात्मा गाँधी की विचार पद्धति का व्यापक नाम गाँधीवाद है। मार्क्सवाद के समान कोई व्यवस्थित शास्त्रीय अध्ययन गाँधीवाद के पीछे नहीं है, इसी कारण उसमें किसी प्रकार की तर्कजन्य पद्धति का अभाव है। उसका आधार तर्क नहीं, स्वानुभूति है। इस विचार का प्रत्येक खंड आत्मशक्ति को लेकर चलता है। इसी कारण उसमें एक प्रकार की आध्यात्मिकता और विचार-स्वातंत्र्य है। गाँधीवाद को किशोरीलाल मशरूवाला ने तीन भागों में विभक्त किया है- वर्णव्यवस्था, टूस्टीशिप, विकेंद्रीकरण। वर्णव्यवस्था के अंतर्गत उन्होंने पारिश्रमिक की समानता का प्रस्ताव किया। टूस्टीशिप के अंतर्गत आत्मविश्वास के साथ समस्त प्राणिमात्र के कल्याण के लिए कार्य करना होता है। विकेंद्रीकरण के अंतर्गत उद्योगों का ही नहीं, राजसत्ता का भी विकेंद्रीकरण उनका अपना अभीप्सित था। गाँधीवाद की सबसे बड़ी देन उसकी यह विचारधारा है कि हमको साथ के साथ-साथ साधन की पवित्रता का भी ध्यान रखना चाहिए। सर्वोदय गाँधी का सामाजिक आदर्श है। गाँधीवाद के मूल स्तंभ दो हैं, सत्य और अहिंसा। उन्होंने अहिंसा को सत्य का दूसरा पहलू कहा है। अहिंसा में प्रेम की संप्राप्ति भी है। यह प्रेम स्वार्थ, मोह, आसक्ति आदि से भिन्न होता है। इस अहिंसा में बैर-त्याग, चराचर प्रेम और पूर्ण निष्काम भाव का समन्वय है। ऐसी अहिंसा की प्राप्ति के लिए गाँधी ने आत्मशुद्धि को आवश्यक माना है और इसके लिए अहं के त्याग को अनिवार्य माना है। मार्क्सवाद के साम्यवाद के प्रति गाँधीजी का दृष्टिकोण सकारात्मक था किंतु इसका कारण था वर्गहीन समाज का आदर्श।

SubQuestion No : 24

Q.24 'अभीप्सित' का अर्थ है।

- Ans
- A. लालच
 - B. इच्छा
 - C. अविष्कार
 - D. दृष्टिकोण

Question ID : 630680177146

Status : Answered

Chosen Option : B

Comprehension:

नीचे दिए गये गद्य को पढ़ें और पूछे गये प्रश्नों के उत्तर दें:

महात्मा गाँधी की विचार पद्धति का व्यापक नाम गाँधीवाद है। मार्क्सवाद के समान कोई व्यवस्थित शास्त्रीय अध्ययन गाँधीवाद के पीछे नहीं है, इसी कारण उसमें किसी प्रकार की तर्कजन्य पद्धति का अभाव है। उसका आधार तर्क नहीं, स्वानुभूति है। इस विचार का प्रत्येक खंड आत्मशक्ति को लेकर चलता है। इसी कारण उसमें एक प्रकार की आध्यात्मिकता और विचार-स्वातंत्र्य है। गाँधीवाद को किशोरीलाल मशरूवाला ने तीन भागों में विभक्त किया है- वर्णव्यवस्था, टूस्टीशिप, विकेंद्रीकरण। वर्णव्यवस्था के अंतर्गत उन्होंने पारिश्रमिक की समानता का प्रस्ताव किया। टूस्टीशिप के अंतर्गत आत्मविश्वास के साथ समस्त प्राणिमात्र के कल्याण के लिए कार्य करना होता है। विकेंद्रीकरण के अंतर्गत उद्योगों का ही नहीं, राजसत्ता का भी विकेंद्रीकरण उनका अपना अभीप्सित था। गाँधीवाद की सबसे बड़ी देन उसकी यह विचारधारा है कि हमको साथ के साथ-साथ साधन की पवित्रता का भी ध्यान रखना चाहिए। सर्वोदय गाँधी का सामाजिक आदर्श है। गाँधीवाद के मूल स्तंभ दो हैं, सत्य और अहिंसा। उन्होंने अहिंसा को सत्य का दूसरा पहलू कहा है। अहिंसा में प्रेम की संप्राप्ति भी है। यह प्रेम स्वार्थ, मोह, आसक्ति आदि से भिन्न होता है। इस अहिंसा में बैर-त्याग, चराचर प्रेम और पूर्ण निष्काम भाव का समन्वय है। ऐसी अहिंसा की प्राप्ति के लिए गाँधी ने आत्मशुद्धि को आवश्यक माना है और इसके लिए अहं के त्याग को अनिवार्य माना है। मार्क्सवाद के साम्यवाद के प्रति गाँधीजी का दृष्टिकोण सकारात्मक था किंतु इसका कारण था वर्गहीन समाज का आदर्श।

SubQuestion No : 25

Q.25 गद्यांश के अनुसार गाँधीवाद की समाज की सबसे बड़ी देन क्या है?

- Ans
- A. साथ के साथ-साथ साधन की पवित्रता का भी ध्यान रखने का सिद्धांत।
 - B. टूस्टीशिप का सिद्धांत।
 - C. सत्य एवं अहिंसा को हथियार के रूप में प्रयोग करने का सिद्धांत।
 - D. अहं के त्याग का सिद्धांत।

Question ID : 630680177143

Status : Answered

Chosen Option : A

Q.1 Select the most appropriate option that can substitute the underlined segment in the given sentence.

Emmeline's case was brilliantly designed, made, adjusted to win over her American audience.

- Ans
- A. presented
 - B. calibrated
 - C. recorded
 - D. taped

Question ID : 630680177374
Status : Not Answered
Chosen Option : --

Q.2 Select the correct spelling of the word underlined in the given sentence.
Casement made his final impashioned speech from the dock.

- Ans
- A. Impeshioned
 - B. Impassioned
 - C. Impationed
 - D. Impashuned

Question ID : 630680177346
Status : Not Answered
Chosen Option : --

Q.3 Select the most appropriate article to fill in the blank. In case no article is needed, select 'No article needed'.

In 1901, he joined _____ Social Democratic Labour Party, remaining in Russia.

- Ans
- A. an
 - B. the
 - C. a
 - D. No article needed

Question ID : 630680177391
Status : Not Answered
Chosen Option : --

Q.4 Select the most appropriate option that conveys the meaning of the words in the brackets to fill in the blanks.

Today, in all its many _____ (types of something), Christianity remains the most _____ (liked, enjoyed or supported by many people) religion on the planet.

- Ans
- A. churches; biggest
 - B. countries; hated
 - C. forms; popular
 - D. areas; bright

Question ID : 630680177358
Status : Not Answered
Chosen Option : --

Q.5 Select the most appropriate option that conveys the meaning of the words in the brackets to fill in the blanks.

In _____ (connected with the law) matters too, the best speakers had a _____ (clearly noticeable) advantage.

- Ans
- A. economic; clever
 - B. society; negative
 - C. social; big
 - D. legal; distinct

Question ID : 630680177360

Status : Not Answered

Chosen Option : --

Q.6 Select the most appropriate tense of the verb in the brackets to fill in the blank in the sentence below.

She _____ (reach) across the table and grabs my hand.

- Ans
- A. is reaching
 - B. reaches
 - C. reaching
 - D. reach

Question ID : 630680177396

Status : Not Answered

Chosen Option : --

Q.7 Select the most appropriate option that conveys the meaning of the words in the brackets to fill in the blanks.

Of course, such _____ (weapons or military equipment) were little match for the disciplined Turkish archers who _____ (killed in a very short period of time) them soon after they crossed into Asia.

- Ans
- A. strategy; captured
 - B. armaments; massacred
 - C. tools; captured
 - D. tools; rewarded

Question ID : 630680177368

Status : Not Answered

Chosen Option : --

Q.8 Select the most appropriate preposition that can substitute the underlined word in the given sentence.

Between the shadow of the Lincoln memorial, he gave an extraordinary speech.

- Ans
- A. Among
 - B. At
 - C. On
 - D. Under

Question ID : 630680177385

Status : Not Answered

Chosen Option : --

Q.9 Select the correct spelling of the word underlined in the given sentence.
Casement must be regaaededas a complex and perhaps deeply flawed individual.

- Ans
- A. Rigarded
 - B. Rigaaded
 - C. Reguarded
 - D. Regarded

Question ID : 630680177341
Status : Not Answered
Chosen Option : --

Q.10 Select the most appropriate proverb that can substitute the underlined sentence given below.
Even a great teacher cannot make an impact on learning if the student is indifferent. You can give opportunities but cannot force an outcome.

- Ans
- A. A rolling stone gathers no moss.
 - B. You cannot spoon feed students.
 - C. You can lead a horse to water but you cannot make it drink.
 - D. All that glitters is not gold.

Question ID : 630680177337
Status : Not Answered
Chosen Option : --

Q.11 Sentences of a paragraph are given below in jumbled order. Arrange the sentences in the correct order to form a meaningful and coherent paragraph.
(A) Today, it is many times richer in industry, food and raw materials.
(B) Today, we have allies who jointly with us form a united front against the German invaders.
(C) Today, we enjoy the sympathy and support of all the peoples of Europe fallen under the yoke of Fascist tyranny.
(D) Today, our country is in a far better position that it was 23 years ago.

- Ans
- A. DABC
 - B. BCAD
 - C. ADCB
 - D. ABCD

Question ID : 630680177354
Status : Not Answered
Chosen Option : --

Q.12 Select the most appropriate option that can substitute the underlined segment in the given sentence.
The audience had been forced do something by threat or persuasion, unfairly by a string of male preachers using selective quotations from the Bible.

- Ans
- A. contraband
 - B. browbeaten
 - C. cheated
 - D. converted

Question ID : 630680177379
Status : Not Answered
Chosen Option : --

Q.13 Select the most appropriate synonym of the underlined word.
Ironically, the campaign that Bush launched with his bellicose address revealed not America's strength but rather the limits of its global reach.

- Ans
- A. Long
 - B. Impressive
 - C. Calm
 - D. Aggressive

Question ID : 630680177330
Status : Not Answered
Chosen Option : --

Q.14 Select the most appropriate idiom that can substitute the underlined segment given below.
I feel sorry for Rekha. Her home catering business has failed completely.

- Ans
- A. gone belly up
 - B. counting pennies
 - C. gone south
 - D. sparked up

Question ID : 630680177333
Status : Not Answered
Chosen Option : --

Q.15 Select the most appropriate adjective that can substitute the underlined word in the given sentence.
Gandhi had a pit impact on South Africa.

- Ans
- A. ocean
 - B. rounded
 - C. deep
 - D. purple

INDIA

Question ID : 630680177382
Status : Not Answered
Chosen Option : --

Q.16 Select the most appropriate option that conveys the meaning of the words in the brackets to fill in the blanks.

Philip's _____ (impossible to defeat) Armada was humiliated and _____ (destroyed or spoiled).

- Ans
- A. better; lost
 - B. superior; lost
 - C. superior; won
 - D. invincible; ruined

Question ID : 630680177369
Status : Not Answered
Chosen Option : --

Q.17 Select the most appropriate option that conveys the meaning of the words in the brackets to fill in the blanks.

The enemy _____ (planned or arranged in order to produce a particular effect) that our army would be _____ (to be scattered or moved away over a large area) at the very first blow and our country forced to its knees.

Ans A. calculated; dispersed

B. predicted; defeated

C. thought; destroyed

D. thought; defeated

Question ID : 630680177362

Status : Not Answered

Chosen Option : --

Q.18 Select the most appropriate article to fill in the blank. In case no article is needed, select 'No article needed'.

Race relations are _____ mess right now.

Ans A. a

B. an

C. the

D. No article needed

Question ID : 630680177395

Status : Not Answered

Chosen Option : --

Q.19 Select the most appropriate Antonyms of the underlined word.
George Bush celebrated the official end of combat operations in Iraq with a victory speech aboard the USS Abraham Lincoln.

Ans A. Ended

B. grieved

C. remembered

D. Rejoiced

Question ID : 630680177328

Status : Not Answered

Chosen Option : --

Q.20 Select the most appropriate present tense of the verb in the brackets to fill in the blank in the sentence below.

We all stare at Howard, _____ (wait) for him to introduce himself.

Ans A. waited

B. waiting

C. was waiting

D. had waited

Question ID : 630680177401

Status : Not Answered

Chosen Option : --

Comprehension:

Read the following passage and answer the given questions:

The Union government's proposed measures for regulating online gaming in a draft amendment to the Information Technology (Intermediary Liability and Digital Media Ethics Code) Rules, 2021 leave several questions unanswered. Some of these proposed measures, such as the establishment of a self-regulatory body, collection of know-your-customer (KYC) information from players and appointment of a grievance officer within the company, are already in place. These are moves that industry bodies representing such companies have encouraged. States such as Tamil Nadu want much stricter regulation of the sector than what is being proposed by the Centre in the draft, particularly for gambling with real money. The Centre's draft remains ambiguous on the question of whether States can have additional restrictions. So far, the industry has staved off several bans by mounting legal challenges arguing that they offer games of skill and not those purely dependent on chance—a tenuous distinction for real money gaming. Still, games that require wagering are outlawed in the physical form under the colonial Public Gambling Act 1867 or States' own gambling laws. A clear answer should come from the Union Government on whether States are empowered to prohibit these games online as they do offline.

SubQuestion No : 21

Q.21 Identify the synonym of the word 'restriction' used in the passage.

- Ans A. Limitation
 B. Draft
 C. Proposal
 D. Allowance

Question ID : 630680177421

Status : Not Answered

Chosen Option : --

Comprehension:

Read the following passage and answer the given questions:

The Union government's proposed measures for regulating online gaming in a draft amendment to the Information Technology (Intermediary Liability and Digital Media Ethics Code) Rules, 2021 leave several questions unanswered. Some of these proposed measures, such as the establishment of a self-regulatory body, collection of know-your-customer (KYC) information from players and appointment of a grievance officer within the company, are already in place. These are moves that industry bodies representing such companies have encouraged. States such as Tamil Nadu want much stricter regulation of the sector than what is being proposed by the Centre in the draft, particularly for gambling with real money. The Centre's draft remains ambiguous on the question of whether States can have additional restrictions. So far, the industry has staved off several bans by mounting legal challenges arguing that they offer games of skill and not those purely dependent on chance—a tenuous distinction for real money gaming. Still, games that require wagering are outlawed in the physical form under the colonial Public Gambling Act 1867 or States' own gambling laws. A clear answer should come from the Union Government on whether States are empowered to prohibit these games online as they do offline.

SubQuestion No : 22

Q.22 Which of the following is not a fact cited in the passage?

- Ans A. Games that require wagering are outlawed in the physical form.
 B. Draft amendment to IT rules 2021 was proposed by the Union Government.
 C. KYC is Know Your Customer.
 D. States such as Tamil Nadu want lesser regulation of the sector than what is being proposed by the Centre.

Question ID : 630680177418

Status : Not Answered

Chosen Option : --

Comprehension:

Read the following passage and answer the given questions:

The Union government's proposed measures for regulating online gaming in a draft amendment to the Information Technology (Intermediary Liability and Digital Media Ethics Code) Rules, 2021 leave several questions unanswered. Some of these proposed measures, such as the establishment of a self-regulatory body, collection of know-your-customer (KYC) information from players and appointment of a grievance officer within the company, are already in place. These are moves that industry bodies representing such companies have encouraged. States such as Tamil Nadu want much stricter regulation of the sector than what is being proposed by the Centre in the draft, particularly for gambling with real money. The Centre's draft remains ambiguous on the question of whether States can have additional restrictions. So far, the industry has staved off several bans by mounting legal challenges arguing that they offer games of skill and not those purely dependent on chance—a tenuous distinction for real money gaming. Still, games that require wagering are outlawed in the physical form under the colonial Public Gambling Act 1867 or States' own gambling laws. A clear answer should come from the Union Government on whether States are empowered to prohibit these games online as they do offline.

SubQuestion No : 23

Q.23 Identify the tone of the passage.

- Ans A. Cynical
 B. Critical
 C. Laudatory
 D. Bitter

Question ID : 630680177419

Status : Not Answered

Chosen Option : --

Comprehension:

Read the following passage and answer the given questions:

The Union government's proposed measures for regulating online gaming in a draft amendment to the Information Technology (Intermediary Liability and Digital Media Ethics Code) Rules, 2021 leave several questions unanswered. Some of these proposed measures, such as the establishment of a self-regulatory body, collection of know-your-customer (KYC) information from players and appointment of a grievance officer within the company, are already in place. These are moves that industry bodies representing such companies have encouraged. States such as Tamil Nadu want much stricter regulation of the sector than what is being proposed by the Centre in the draft, particularly for gambling with real money. The Centre's draft remains ambiguous on the question of whether States can have additional restrictions. So far, the industry has staved off several bans by mounting legal challenges arguing that they offer games of skill and not those purely dependent on chance—a tenuous distinction for real money gaming. Still, games that require wagering are outlawed in the physical form under the colonial Public Gambling Act 1867 or States' own gambling laws. A clear answer should come from the Union Government on whether States are empowered to prohibit these games online as they do offline.

SubQuestion No : 24

Q.24 What is the meaning of the word 'wagering' used in the passage?

- Ans A. Lending
 B. Betting
 C. Wagging
 D. Investing

Question ID : 630680177420

Status : Not Answered

Chosen Option : --

Comprehension:

Read the following passage and answer the given questions:

The Union government's proposed measures for regulating online gaming in a draft amendment to the Information Technology (Intermediary Liability and Digital Media Ethics Code) Rules, 2021 leave several questions unanswered. Some of these proposed measures, such as the establishment of a self-regulatory body, collection of know-your-customer (KYC) information from players and appointment of a grievance officer within the company, are already in place. These are moves that industry bodies representing such companies have encouraged. States such as Tamil Nadu want much stricter regulation of the sector than what is being proposed by the Centre in the draft, particularly for gambling with real money. The Centre's draft remains ambiguous on the question of whether States can have additional restrictions. So far, the industry has staved off several bans by mounting legal challenges arguing that they offer games of skill and not those purely dependent on chance—a tenuous distinction for real money gaming. Still, games that require wagering are outlawed in the physical form under the colonial Public Gambling Act 1867 or States' own gambling laws. A clear answer should come from the Union Government on whether States are empowered to prohibit these games online as they do offline.

SubQuestion No : 25

Q.25 What is the central theme of the passage?

- Ans
- A. Union Government versus State Government
 - B. Ill effects of online games
 - C. Regulation of online games in India
 - D. IT rules 2021 and Public Gambling Act 1867 – pros and cons

Question ID : 630680177417

Status : Not Answered

Chosen Option : --

Section : General Aptitude

Q.1 1526 ई. में बाबर ने निम्नलिखित में से किस स्थान पर काबुली बाग़ मस्जिद (Kabuli Bagh mosque) का निर्माण करवाया था?

- Ans
- A. पानीपत
 - B. आगरा
 - C. फरीदाबाद
 - D. दिल्ली

Question ID : 630680177450

Status : Answered

Chosen Option : B

Q.2 "कोई भी नागरिक, केवल धर्म, जाति, जाति, लिंग, जन्म स्थान या इनमें से किसी के आधार पर, दुकानों, सार्वजनिक रेस्तरां, होटल और सार्वजनिक मनोरंजन के स्थानों तक पहुंच के संबंध में किसी भी अक्षमता, दायित्व, प्रतिबंध या शर्त के अधीन नहीं होगा।"

उपरोक्त कथन निम्नलिखित में से किस मौलिक अधिकार के अंतर्गत आता है?

- Ans
- A. स्वतंत्रता का अधिकार
 - B. समानता का अधिकार
 - C. शोषण के विरुद्ध अधिकार
 - D. संवैधानिक उपचारों का अधिकार

Question ID : 630680177519

Status : Answered

Chosen Option : B

Q.3 हिंदुस्तानी संगीत के बारे में दिए गए कथनों में से कौन से सही हैं?

- I. क्रम में आरोही स्वरों के सेट को आरोह कहा जाता है।
- II. क्रम में अवरोही स्वरों के सेट को अवरोह कहा जाता है।
- III. राग में सबसे महत्वपूर्ण स्वर को संवादी स्वर कहते हैं।

- Ans
- A. I और III
 - B. II और III
 - C. I, II और III
 - D. I और II

Question ID : 630680177474

Status : Not Answered

Chosen Option : --

Q.4 भारतीय लोक सेवा अधिनियम (Indian Civil Services Act) किस वर्ष में अधिनियमित किया गया था?

- Ans
- A. 1861
 - B. 1867
 - C. 1855
 - D. 1864

Question ID : 630680177452

Status : Answered

Chosen Option : C

Q.5 निम्नलिखित में से किस राज्य में, हड़प्पा स्थल बनावली (Banawali) और राखीगढ़ी (Rakhigarhi) स्थित हैं?

- Ans
- A. पंजाब
 - B. राजस्थान
 - C. हरियाणा
 - D. गुजरात

Question ID : 630680177463

Status : Answered

Chosen Option : C

Q.6 विद्युत क्षेत्र में सुधार लाने के लिए विद्युत मंत्रालय द्वारा 2021 में निम्नलिखित में से कौन से नियम अधिसूचित नहीं किए गए थे?

- Ans
- A. विद्युत (विलंब भुगतान अधिभार) नियमावली
 - B. विद्युत (कानून में बदलाव के कारण लागत की समय पर वसूली) नियमावली
 - C. विद्युत (मस्ट-रन पॉवर प्लांट से बिजली उत्पादन को बढ़ावा देना) नियमावली
 - D. विद्युत (उपभोक्ताओं के अधिकार) नियमावली

Question ID : 630680177502

Status : Not Answered

Chosen Option : --

Q.7 निम्नलिखित में से कौन-सा कथन 'CSIR जिज्ञासा विज्ञान महोत्सव 2022' (CSIR Jigyasa Vigyan Mahotsav 2022) के संबंध में सही है?

- I. इसे 3 अगस्त 2022 में लॉन्च किया गया था।
- II. यह देश भर में बूटकैम्प के माध्यम से 20,000 से अधिक विद्यार्थियों तक पहुंचा था।
- III. ऊर्जा, स्वास्थ्य, आर्टिफिशियल इंटेलिजेंस, जलवायु परिवर्तन, जल संरक्षण, आपदा न्यूनीकरण और कृषि-प्रौद्योगिकी जैसे क्षेत्रों में भविष्य के विषयों के साथ 7 बूटकैम्प आयोजित किए गए।
- IV. प्रधान मंत्री नरेंद्र मोदी ने राष्ट्रीय स्तर की वैज्ञानिक रचनात्मकता प्रतियोगिता 'CSIR जिज्ञासा विज्ञान महोत्सव 2022' (CSIR Jigyasa Vigyan Mahotsav 2022) के विजेताओं की घोषणा की।

- Ans
- A. I और IV
 - B. III और IV
 - C. II और III
 - D. I और II

Question ID : 630680177430

Status : Answered

Chosen Option : A

Q.8 निम्नलिखित विवरणों की सहायता से आंदोलन का नाम ज्ञात करें:

'सितंबर 1946 में, बंगाल प्रांतीय किसान सभा (Bengal Provincial Kisan Sabha) ने जन संघर्ष के माध्यम से, आधे हिस्से के बजाय दो-तिहाई की बाढ़ आयोग की सिफारिशों को लागू करने का आह्वान बरगार्डों (bargardars) को दिया, बटाईदारों (share-croppers) को बागचासी (bagchasi) या अध्यार (adhayar) के रूप में भी जाना जाता है।'

- Ans
- A. तेभगा आंदोलन (Tebhaga Movement)
 - B. बारदोली सत्याग्रह (Bardoli Satyagraha)
 - C. मोपला आंदोलन (Mappila Movement)
 - D. एका आंदोलन (Eka Movement)

Question ID : 630680177456

Status : Answered

Chosen Option : A

Q.9 भारत के उप-राष्ट्रपति का 2022 का चुनाव, _____ उप-राष्ट्रपति का चुनाव था।

- Ans
- A. 15^{वें}
 - B. 14^{वें}
 - C. 17^{वें}
 - D. 16^{वें}

Question ID : 630680177523

Status : Answered

Chosen Option : D

Q.10 करेंसी नोट और सिक्कों को _____ भी कहा जाता है।

- Ans
- A. डिक्री करेंसी (decree currency)
 - B. फिएट मुद्रा (fiat money)
 - C. विधिक पूंजी (legal capital)
 - D. आंतरिक मुद्रा (intrinsic money)

Question ID : 630680177481

Status : Answered

Chosen Option : B

Q.11 प्रधान मंत्री नरेंद्र मोदी ने 26 नवंबर 2022 को भारत के सर्वोच्च न्यायालय में संविधान दिवस समारोह के दौरान जिला न्यायपालिका के लिए S3WaaS वेबसाइटों की शुरुआत की। निम्नलिखित में से कौन सा S3WaaS में प्रयुक्त S-शब्द नहीं है?

- Ans
- A. Scalable (स्केलेबल)
 - B. Sugamya (सुगम्य)
 - C. Sarthak (सार्थक)
 - D. Secure (सिक्क्योर)

Question ID : 630680177526
Status : Not Answered
Chosen Option : --

Q.12 भारत सरकार, खान मंत्रालय की वार्षिक रिपोर्ट 2021-22 के अनुसार, 2019 में लौह अयस्क के उत्पादन के मामले में विश्व में भारत की रैंकिंग क्या थी?

- Ans
- A. दूसरा
 - B. तीसरा
 - C. चौथी
 - D. पहला

Question ID : 630680177489
Status : Answered
Chosen Option : B

Q.13 30 जून 2022 को स्वीडन में स्टॉकहोम डायमंड लीग 2022 में आयोजित पुरुषों की भाला फेंक स्पर्धा में नीरज चोपड़ा द्वारा बनाया गया राष्ट्रीय रिकॉर्ड क्या है?

- Ans
- A. 89.94m
 - B. 86.48m
 - C. 88.06m
 - D. 82.23m

INDIA

Question ID : 630680177444
Status : Answered
Chosen Option : A

Q.14 निम्नलिखित में से कौन-सी शैली, एक ताल, तीन ताल, झपताल आदि में धीमी और तेज ताल की संगीत शैली है जिसमें आलाप, बोल-तान और तान शामिल हैं?

- Ans
- A. प्रबन्ध
 - B. ध्रुपद
 - C. ठुमरी
 - D. खयाल

Question ID : 630680177470
Status : Answered
Chosen Option : D

Q.15 राजकोषीय उत्तरदायित्व और बजट प्रबंधन अधिनियम, 2003 (FRBMA) की निम्नलिखित में से कौन-सी विशेषता नहीं है?

- Ans
- A. वास्तविक घाटे केवल राष्ट्रीय सुरक्षा या प्राकृतिक आपदा या केंद्र सरकार द्वारा निर्दिष्ट ऐसे अन्य असाधारण आधारों के आधार पर निर्दिष्ट लक्ष्यों से अधिक हो सकते हैं।
 - B. केंद्र सरकार को संसद के दोनों सदनों के समक्ष तीन विवरण प्रस्तुत करने होते हैं - मध्यावधि राजकोषीय नीति विवरण (Medium-term Fiscal Policy Statement), राजकोषीय नीति रणनीति विवरण (Fiscal Policy Strategy Statement) और वार्षिक वित्तीय विवरण के साथ मैक्रोइकॉनॉमिक फ्रेमवर्क विवरण (Macroeconomic Framework Statement)
 - C. नकद प्राप्तियों पर नकद संवितरण (cash disbursements) के अस्थायी आधिक्य को पूरा करने के लिए केंद्र सरकार भारतीय रिजर्व बैंक से अग्रिम के अतिरिक्त किसी प्रकार का उधार नहीं लेगी।
 - D. अधिनियम, केंद्र सरकार को राजकोषीय घाटे को GDP के 6 प्रतिशत से अधिक नहीं करने के लिए और 31 मार्च 2006 तक राजस्व घाटे को समाप्त करने और उसके बाद पर्याप्त राजस्व अधिशेष का निर्माण करने के लिए उचित उपाय करने के लिए बाध्य करता है।

Question ID : 630680177477

Status : Not Answered

Chosen Option : --

Q.16 यूनेस्को (UNESCO) ने छऊ नृत्य को मानवता की अमूर्त सांस्कृतिक विरासत (Intangible Cultural Heritage of Humanity) की प्रतिनिधि सूची में किस वर्ष शामिल किया था?

- Ans
- A. 2010
 - B. 2008
 - C. 2017
 - D. 2019

Question ID : 630680177466

Status : Answered

Chosen Option : D

Q.17 शब्द 'ऑस्टिया (Ostia)' और 'ओस्कुलम (Osculum)' _____ से संबंधित हैं।

- Ans
- A. ऐस्केलमिन्थीज़ (aschelminthes)
 - B. एनेलिडा (annelida)
 - C. पोरिफेरा (porifera)
 - D. टिनोफोरा (ctenophore)

Question ID : 630680177507

Status : Not Answered

Chosen Option : --

Q.18 2 नवंबर 2022 तक, भारत में कितने कायाकल्प अवार्डी (Kayakalp Awardee) केंद्र हैं?

- Ans
- A. 13,825
 - B. 15,299
 - C. 11,001
 - D. 9,065

Question ID : 630680177439

Status : Not Answered

Chosen Option : --

Q.19 ऊर्जा के रूपांतरण के संबंध में सही कथनों की पहचान करें।

- I. जब एक लोलक नीचे की ओर झूलता है, तो इसका कार्य स्थितिज ऊर्जा को गतिज ऊर्जा में परिवर्तित करता है।
- II. माइक्रोफोन ध्वनि ऊर्जा को विद्युत ऊर्जा में परिवर्तित करता है।
- III. ब्लेंडर यांत्रिक ऊर्जा को गतिज और ध्वनि ऊर्जा में परिवर्तित करता है।
- IV. लोहा गतिज ऊर्जा को तापीय ऊर्जा में परिवर्तित करता है।

- Ans
- A. I और II
 - B. II और IV
 - C. I, II और III
 - D. I और III

Question ID : 630680177515

Status : Not Answered

Chosen Option : --

Q.20 एक्सिस बैंक के बारे में निम्नलिखित में से कौन सा कथन सही है?

- I. एक्सिस बैंक भारत में निजी क्षेत्र का दूसरा सबसे बड़ा बैंक है।
- II. 31 मार्च 2022 तक 1,500 से अधिक वर्चुअल रिलेशनशिप मैनेजर्स के साथ बैंक के छह एक्सिस वर्चुअल सेंटर हैं।
- III. बैंक के विदेशी परिचालन आठ अंतरराष्ट्रीय कार्यालयों तक फैले हुए हैं।

- Ans
- A. II और III
 - B. I, II और III
 - C. I और III
 - D. I और II

Question ID : 630680177485

Status : Not Answered

Chosen Option : --

Q.21 2 फरवरी 2023 तक की स्थिति के अनुसार, कितने राज्यों/केंद्र शासित प्रदेशों (UTs) में यह सुविधा है जहां लोग एम्बुलेंस बुलाने के लिए टेलीफोन नंबर 108 या 102 डायल कर सकते हैं?

- Ans
- A. 32
 - B. 30
 - C. 35
 - D. 28

Question ID : 630680177432

Status : Answered

Chosen Option : C

Q.22 लिंग आधारित हिंसा का उन्मूलन (Elimination of Gender-Based Violence) विषय के साथ 'नई चेतना-पहल बदलाव की' नामक महीने भर चलने वाला अभियान, सभी भारतीय राज्यों/केंद्र शासित प्रदेशों (UTs) में 'जन आंदोलन' (लोगों का आंदोलन) के रूप में _____ तक आयोजित किया गया था।

- Ans
- A. 25 अगस्त से 23 सितंबर 2022
 - B. 25 मई से 23 जून 2022
 - C. 25 फरवरी से 23 मार्च 2022
 - D. 25 नवंबर से 23 दिसंबर 2022

Question ID : 630680177443

Status : Not Answered

Chosen Option : --

Q.23 जायंट मीटरवेव रेडियो टेलीस्कोप (GMRT) _____ के सिद्धांत पर आधारित है।

- Ans
- A. पतली फिल्म ऑप्टिकल व्यतिकरण
 - B. अल्ट्रासोनिक तरंगों के परावर्तन
 - C. विद्युत चुम्बकीय तरंगों की उत्पत्ति, प्रसार और पहचान
 - D. ब्रह्मांडीय रेडियो तरंगों का पता लगाने

Question ID : 630680177510

Status : Not Answered

Chosen Option : --

Q.24 निम्नलिखित में से कौन सा/से ठंडे मौसम के मौसम में उत्तर भारत में अत्यधिक ठंड का/के कारण हैं/हैं?

1. पंजाब, हरियाणा और राजस्थान जैसे राज्य समुद्र के मध्यम प्रभाव से दूर होने के कारण महाद्वीपीय जलवायु का अनुभव करते हैं।
2. निकटवर्ती हिमालय पर्वतमाला में हिमपात शीत लहर की स्थिति पैदा करता है।
3. फरवरी के आसपास, कैस्पियन सागर और तुर्कमेनिस्तान से आने वाली ठंडी हवाएं भारत के उत्तर-पश्चिमी भागों में पाला और कोहरे के साथ शीत लहर लाती हैं।

- Ans
- A. 1 और 3
 - B. 1,2, और 3
 - C. केवल 3
 - D. केवल 2

Question ID : 630680177494

Status : Answered

Chosen Option : B

Q.25 जनगणना 2011 के अनुसार देश की कुल जनसंख्या में बच्चों (0-6 वर्ष) का अनुपात कितना था?

- Ans
- A. 15%
 - B. 13%
 - C. 25%
 - D. 20%

Question ID : 630680177498

Status : Not Answered

Chosen Option : --

Section : General Intelligence

Q.1 निम्नलिखित व्यंजक का लगभग मान ज्ञात कीजिए।

$$24 \times 2.7 + 93 \div 3 + 21 \div 3 - 2.9 = ?$$

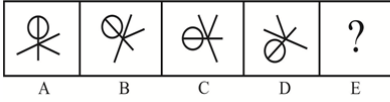
- Ans
- A. 98
 - B. 98.9
 - C. 99.9
 - D. 100

Question ID : 630680176479

Status : Answered

Chosen Option : C

Q.2 दिए गए विकल्पों में से उस आकृति का चयन करें, जो निम्नलिखित श्रृंखला में प्रश्नवाचक चिन्ह (?) को प्रतिस्थापित कर सकती है।



Ans

✓ A.



✗ B.



✗ C.



✗ D.



Question ID : 630680177628

Status : Answered

Chosen Option : A

Q.3 दिए गए विकल्पों में से उस संख्या का चयन करें, जो निम्नलिखित श्रृंखला में प्रश्नवाचक चिन्ह (?) को प्रतिस्थापित कर सकती है।

20, 60, 150, 300, 450, 450, ?

Ans

✗ A. 250

✗ B. 300

✓ C. 225

✗ D. 350

Question ID : 630680177644

Status : Answered

Chosen Option : C

Q.4 सोमवार से शुरू होने वाले एक सप्ताह में हिंदी, गणित, रीजनिंग, साइंस, एप्टीट्यूड और अंग्रेजी पर छह व्याख्यान आयोजित किए जाने हैं, जरूरी नहीं कि इसी क्रम में हों। रविवार छुट्टी है। साइंस से ठीक पहले हिंदी का व्याख्यान होना है। एप्टीट्यूड के ठीक बाद गणित का व्याख्यान आयोजित किया जाना निर्धारित है। रीजनिंग सबसे अंत में और साइंस के ठीक बाद होना है। गणित और हिंदी के बीच अंग्रेजी का व्याख्यान होना है। सप्ताह के किस दिन अंग्रेजी का व्याख्यान निर्धारित है?

- Ans
- A. शुक्रवार
 - B. बुधवार
 - C. मंगलवार
 - D. सोमवार

Question ID : 630680177576
Status : Answered
Chosen Option : B

Q.5 आठ विद्यार्थियों का एक समूह अजय, रवि, संजय, विजय, अंजलि, आंचल, रूही और नैना एक गोल मेज के परितः केंद्र की ओर अभिमुख होकर बैठे हैं। उनमें से चार नैना, अंजलि, आंचल और रूही महिलाएं हैं और बाकी पुरुष हैं।

- अजय, आंचल के दाएं से तीसरे स्थान पर बैठा है।
- आंचल, संजय के दाएं से तीसरे स्थान पर बैठी है जो रवि के सामने बैठा है।
- अंजलि और रूही एक दूसरे के आमने-सामने हैं।
- कोई भी दो पुरुष या दो महिलाएं एक साथ नहीं बैठे हैं।
- रूही, अजय और रवि के बीच नहीं बैठी है।

नैना और रूही के बीच कौन बैठा है?

- Ans
- A. रवि
 - B. विजय
 - C. संजय
 - D. अजय

Question ID : 630680177566
Status : Answered
Chosen Option : C

Q.6 47 बच्चों की एक कक्षा में, सना नीचे से 21वें स्थान पर है जबकि फिजा ऊपर से तीसरे स्थान पर है। उनके स्थानों के बीच कितना अंतर है?

- Ans
- A. 23
 - B. 21
 - C. 22
 - D. 24

Question ID : 630680176400
Status : Answered
Chosen Option : A

Q.7 सात रॉक सितारे, अजय, काजोल, माधुरी, विजय, संजय, राहुल और करीना एक पंक्ति में उत्तर की ओर अभिमुख होकर बैठे हैं और उनमें से काजोल, माधुरी और करीना महिलाएँ हैं।

- अजय और राहुल अंतिम छोर पर हैं।
- काजोल, विजय के ठीक दाएं बैठी है।
- संजय, राहुल के बाएं से दूसरे स्थान पर बैठा है।
- कोई भी दो पुरुष या महिलाएं एक साथ नहीं बैठे हैं।
- माधुरी, करीना के बाएं छोर पर है।

इन सबके बीच में कौन बैठा है?

Ans

A. विजय

B. माधुरी

C. संजय

D. काजोल

Question ID : 630680177570

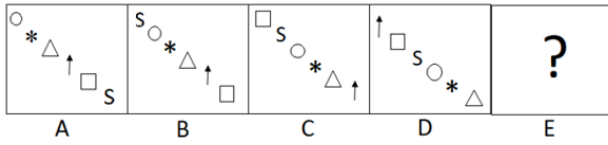
Status : Answered

Chosen Option : D



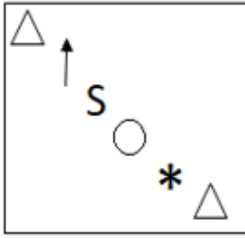
INDIA

Q.8 उत्तर आकृतियों में से उस आकृति का चयन कीजिए जो चार आकृतियों द्वारा निर्मित श्रृंखला को जारी रखेगी।

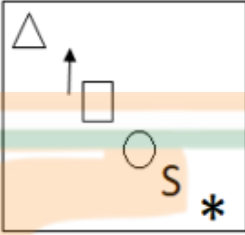


Ans

✗ A.



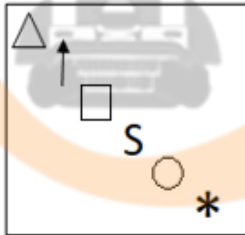
✗ B.



✗ C.



✓ D.



Question ID : 630680176459

Status : Answered

Chosen Option : D

Q.9 चार अक्षर-समूह दिए गए हैं, जिनमें से तीन किसी प्रकार से एकसमान हैं और एक असंगत है। उस असंगत अक्षर-समूह का चयन करें।

Ans ✗ A. CDABY

✗ B. QROPM

✓ C. WVAKQ

✗ D. VWTUR

Question ID : 630680176449

Status : Answered

Chosen Option : C

Q.10 एक सुबह सूर्योदय के बाद राजेश के दादा पार्क में इस तरह खड़े थे कि उनकी परछाई ठीक उनके सामने पड़ रही थी। उसने अपनी छाया का पीछा करना शुरू किया और 5m चला। उसके बाद वह अपनी बाईं ओर मुड़ा और 3 m चला और फिर से अपनी बाईं ओर मुड़कर 1m चला। अब राजेश के दादा अपने आरंभिक बिन्दु से कितनी दूरी पर और किस दिशा में हैं?

- Ans
- A. 4 m, दक्षिण-पश्चिम
 - B. 4 m, दक्षिण-पूर्व
 - C. 5 m, दक्षिण-पश्चिम
 - D. 5 m, दक्षिण-पूर्व

Question ID : 630680177606

Status : Answered

Chosen Option : C

Q.11 दिए गए विकल्पों में से उस अक्षर का चयन कीजिए जो निम्नलिखित श्रृंखला में प्रश्न चिह्न (?) को प्रतिस्थापित कर सकता है।
D, H, G, K, J, N, ?

- Ans
- A. O
 - B. P
 - C. M
 - D. Q

Question ID : 630680176414

Status : Answered

Chosen Option : C

Q.12 दो कथन दिए गए हैं, जिसके बाद दो निष्कर्ष I और II दिए गए हैं। कथनों को सत्य मानते हुए, भले ही वे आम तौर पर ज्ञात तथ्यों से भिन्न प्रतीत होते हों, यह तय करें कि दिए गए कथनों में से कौन सा/से निष्कर्ष तार्किक रूप से अनुसरण करता है/करते हैं।

कथन:

- A. सभी कुत्ते, चूहे हैं।
- B. सभी मुर्गियाँ, चूहे हैं।

निष्कर्ष:

- I. कुछ कुत्ते, मुर्गियाँ हैं।
- II. कोई भी कुत्ता, मुर्गी नहीं है।

- Ans
- A. केवल निष्कर्ष I अनुसरण करता है
 - B. निष्कर्ष I और II दोनों अनुसरण करते हैं
 - C. केवल निष्कर्ष II अनुसरण करता है
 - D. या तो निष्कर्ष I या II अनुसरण करता है

Question ID : 630680177579

Status : Answered

Chosen Option : D

Q.13 रानी ने अर्चना से कहा, "टेनिस खेलने वाली लड़की मेरे पिता की पत्नी के पुत्र की दो बहनों में से छोटी है।" टेनिस खेलने वाली लड़की का रानी से क्या संबंध है?

- Ans
- A. बहन
 - B. पुत्री
 - C. माता
 - D. पुत्रवधू

Question ID : 630680177615

Status : Answered

Chosen Option : A

Q.14 दिए गए डेटा को पढ़ें और नीचे दिए गए प्रश्न का उत्तर दें।

यदि


P + Q का अर्थ है कि P, Q का पिता है;

P - Q का अर्थ है कि P, Q का भाई है;

P % Q का अर्थ है कि P, Q की पत्नी है;

P × Q का अर्थ है कि P, Q की माता है, तो 'M × S - N % T' के संबंध में M का T से क्या संबंध है?

- Ans
- A. चाची
 - B. सास
 - C. माता
 - D. मामी



Question ID : 630680177612

Status : Answered

Chosen Option : B

Q.15 चार अक्षर-समूह युग्म दिए गए हैं, जिनमें से तीन किसी न किसी तरीके से एक समान हैं, और एक असंगत है। उस असंगत अक्षर-समूह युग्म का चयन करें।

- Ans
- A. ALARM : OZZNI
 - B. CHECK : SXVPX
 - C. BLIND : OYRWM
 - D. BLOCK : YOLXP

Question ID : 630680177625

Status : Answered

Chosen Option : D

Q.16 उल्टे क्रम में लिखी गई अंग्रेजी वर्णमाला श्रृंखला दी गई है।

कौन सा अक्षर दाएं छोर से 24वें अक्षर के दाएं से 18वां होगा?

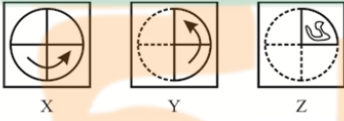
- Ans
- A. D
 - B. F
 - C. E
 - D. G

Question ID : 630680177594

Status : Answered

Chosen Option : B

Q.17 कागज के एक टुकड़े को मोड़ने का क्रम (आकृति X और Y) और जिस तरह से मोड़े हुए कागज को काटा जाता है (आकृति Z), वह निम्नलिखित आकृतियों में दर्शाया गया है। यह कागज खोलने पर कैसा दिखेगा?



Ans

A.



B.



C.



D.



Question ID : 630680177640

Status : Answered

Chosen Option : D

Q.18 दिए गए विकल्पों में से उस संख्या का चयन करें, जो निम्नलिखित श्रृंखला में प्रश्नवाचक चिन्ह (?) को प्रतिस्थापित कर सकती है।

9, 81, 11, 121, 13, 169, 15, ?, 17

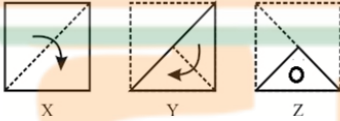
- Ans
- A. 196
 - B. 225
 - C. 205
 - D. 175

Question ID : 630680177651

Status : Answered

Chosen Option : B

Q.19 कागज के एक टुकड़े को मोड़ने का क्रम (आकृति X और Y) और जिस तरह से मोड़े हुए कागज को काटा जाता है (आकृति Z), वह निम्नलिखित आकृतियों में दर्शाया गया है। यह कागज खोलने पर कैसा दिखेगा?



Ans

- A.
- B.
- C.
- D.

Question ID : 630680177642

Status : Answered

Chosen Option : A

Q.20 A, B, C, D, E और F किसी कक्षा में छह विद्यार्थी हैं। B और C, F से छोटे हैं लेकिन A से बड़े हैं। F, D से बड़ा है। E, B से छोटा है लेकिन A से बड़ा है। D, B से बड़ा है और C से छोटा है। जब उन्हें उनकी आयु के अवरोही क्रम में व्यवस्थित किया जाएगा तो ऊपर से तीसरा कौन होगा?

- Ans
- A. D
 - B. E
 - C. B
 - D. C

Question ID : 630680173388

Status : Answered

Chosen Option : D

Q.21 किसी निश्चित कूट भाषा में, "COMING" को "OCIMGN" लिखा जाता है और "NATURE" को "ANUTER" लिखा जाता है। तो उस भाषा में "GLOBAL" को कैसे लिखा जाएगा?

- Ans
- A. OLALGB
 - B. LALGOB
 - C. LGOBLA
 - D. LGBOLA

Question ID : 630680173402

Status : Answered

Chosen Option : D

Q.22 उस विकल्प का चयन करें, जिसमें अक्षर-समूह के मध्य वही संबंध है, जो नीचे दिए गए अक्षर-समूहों के युग्म के मध्य है।

GABBLED : FCYFGKW

- Ans
- A. GABBIER : FYEFDZY
 - B. GARBAGE : FCOFVMX
 - C. JACALES : KYFWQZZ
 - D. JABRONI : KYVJTB

Question ID : 630680177617

Status : Answered

Chosen Option : B

Q.23 यदि \times का अर्थ $-$, $+$ का अर्थ $+$, $+$ का अर्थ $+$ और $-$ का अर्थ \times है, तो निम्नलिखित में से कौन-सा समीकरण सही है?

- Ans
- A. $45 - 15 \div 65 = 56 + 68 \times 82$
 - B. $34 + 56 \div 45 = 37 \times 40 - 231$
 - C. $45 \div 15 + 37 = 56 \times 18 - 234$
 - D. $30 \times 40 \div 45 + 15 - 47 = 131$

Question ID : 630680177658

Status : Answered

Chosen Option : D

Q.24 किसी निश्चित कूट भाषा में, VACATED को VGFCXCE के रूप में कूटबद्ध किया जाता है। उसी भाषा में UGLIEST को किस प्रकार कूटबद्ध किया जाएगा?

- Ans
- A. VUGKNIW
 - B. WINKGUV
 - C. NIWKVUG
 - D. GUVKWIN

Question ID : 630680177605
Status : Not Answered
Chosen Option : --

Q.25 शब्द "SABERING" (आगे और पीछे दोनों ओर से) में अक्षरों के ऐसे कितने युग्म हैं जिनके बीच उतने ही अक्षर हैं जितने अंग्रेजी वर्णानुक्रम में होते हैं?

- Ans
- A. चार
 - B. तीन
 - C. दो
 - D. पांच

Question ID : 630680173395
Status : Answered
Chosen Option : A

Section : Quantitative Aptitude

Q.1 735.4944 का वर्गमूल क्या है?

- Ans
- A. 29.14
 - B. 37.14
 - C. 27.12
 - D. 32.12

Question ID : 630680177950
Status : Answered
Chosen Option : C

Q.2 एक ट्रेन पहले $2\frac{1}{2}$ घंटों में 90 km/h और अगले $5\frac{1}{2}$ घंटों में 75 km/h की चाल से चलती है। ट्रेन की औसत चाल (km/h में) क्या है?

(निकटतम पूर्णांक तक पूर्णांकित)

- Ans
- A. 82
 - B. 80
 - C. 85
 - D. 76

Question ID : 630680178000
Status : Answered
Chosen Option : B

Q.3 एक आदमी एक वस्तु को ₹2,500 में खरीदता है और उसे 15% लाभ पर बेचता है। वस्तु का विक्रय मूल्य (₹ में) क्या है?

- Ans
- A. 2925
 - B. 2750
 - C. 2625
 - D. 2875

Question ID : 630680177974
Status : Answered
Chosen Option : D

Q.4 यदि किसी निश्चित राशि पर 15% वार्षिक दर से 2 वर्षों में मिलने वाला चक्रवृद्धि ब्याज ₹5,418 है। तो वह राशि (₹ में) क्या है?

- Ans
- A. 16,000
 - B. 16,500
 - C. 17,000
 - D. 16,800

Question ID : 630680177995
Status : Answered
Chosen Option : D

Q.5 दो संख्याओं का योग, पहली संख्या का $\frac{21}{16}$ है। दूसरी संख्या, पहली संख्या के कितने प्रतिशत है?

- Ans
- A. 25.25%
 - B. 31.25%
 - C. 34.5%
 - D. 28.75%

Question ID : 630680177971
Status : Answered
Chosen Option : B

Q.6 एक कार्य को किशोर 15 दिनों में, नरेश 20 दिनों में और सुरेश 30 दिनों में पूरा कर सकता है। किशोर और सुरेश ने 2 दिन एक साथ कार्य किया और फिर किशोर की जगह नरेश ने ले ली। कार्य को कुल मिलाकर कितने दिनों में पूरा किया गया?

- Ans
- A. 12.5
 - B. 11.6
 - C. 12
 - D. 10

Question ID : 630680178012

Status : Answered

Chosen Option : B

Q.7 तीन बाइकों की चालों का अनुपात 2 : 5 : 9 है। एक ही दिशा में यात्रा करने वाली बाइकों द्वारा लिए गए समय का अनुपात क्या होगा?

- Ans
- A. 10 : 18 : 45
 - B. 45 : 10 : 18
 - C. 45 : 18 : 10
 - D. 45 : 18 : 12

Question ID : 630680177983

Status : Answered

Chosen Option : C

Q.8 ₹225 की राशि 75 सिक्कों के योग से बनी है जो या तो ₹2 या ₹5 के सिक्के हैं। ₹2 के कितने सिक्के हैं?

- Ans
- A. 42
 - B. 45
 - C. 40
 - D. 50

Question ID : 630680177954

Status : Answered

Chosen Option : D

Q.9 यदि पिंड पर लगाया गया बल, पिंड में उत्पन्न त्वरण के अनुक्रमानुपाती हो, तो इस स्थिति को समीकरण के रूप में व्यक्त कीजिए।

- Ans
- A. $y = x^2 + c$
 - B. $y = kx$
 - C. $y = x + k$
 - D. $y = kx^2$

Question ID : 630680178027

Status : Answered

Chosen Option : D

Q.10 एक राशि साधारण ब्याज की एक निश्चित वार्षिक दर पर 3 वर्षों के लिए रखी जाती है। यदि इसे 6% अधिक दर पर रखा गया होता, तो इससे ₹198 अधिक मिलते। वह राशि (₹ में) क्या है?

- Ans A. 1100
 B. 1150
 C. 1250
 D. 1200

Question ID : 630680177992
Status : Answered
Chosen Option : A

Q.11 श्रावणी की वर्तमान आयु उसके पिता की वर्तमान आयु की एक तिहाई है। यदि 6 वर्ष पहले, उसके पिता की आयु, उसकी आयु की पांच गुना थी, तो श्रावणी की वर्तमान आयु ज्ञात कीजिए।

- Ans A. 12
 B. 18
 C. 24
 D. 36

Question ID : 630680178022
Status : Answered
Chosen Option : A

Q.12 दो कारें A और B, स्थान P और Q से क्रमशः 75 km/h और 90 km/h की औसत चाल से यात्रा करती हैं। यदि A को पूरी यात्रा करने में B से आधा घंटा अधिक लगता है, तो P और Q के बीच की दूरी (km में) क्या है?

- Ans A. 220
 B. 235
 C. 245
 D. 225

Question ID : 630680177966
Status : Answered
Chosen Option : D

Q.13 एक 225 m लंबी ट्रेन, अपने समान दिशा में 10 km/h की चाल से साइकिल चलाने वाले एक साइकिल सवार को 12 सेकंड में पार करती है। ट्रेन की चाल क्या है?

- Ans A. 67.5
 B. 60.5
 C. 70.5
 D. 77.5

Question ID : 630680178005
Status : Not Answered
Chosen Option : --

Q.14 एक व्यक्ति 20% की एक छूट या 12% और 8% की दो क्रमिक छूटों, के बीच निर्णय नहीं कर सका, दोनों छूटें ₹2,500 की खरीदारी पर प्रदान की गई थीं। छूट के दोनों विकल्पों के बीच कितना अंतर (₹ में) है?

- Ans
- A. 28
 - B. 24
 - C. 32
 - D. 36

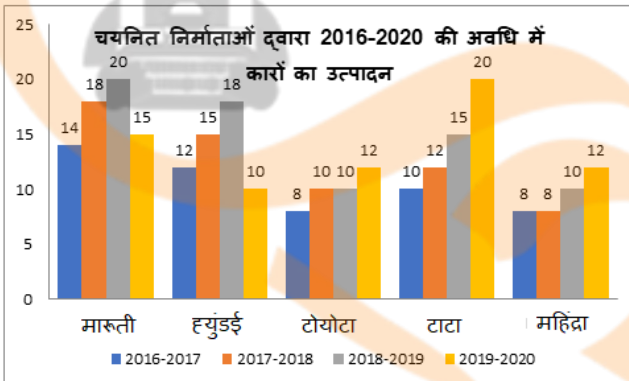
Question ID : 630680177980
Status : Answered
Chosen Option : B

Q.15 $\frac{4}{7}$, $\frac{5}{14}$ और $\frac{9}{35}$ के LCM और HCF के बीच का अंतर ज्ञात कीजिए।

- Ans
- A. 25.7
 - B. 20.7
 - C. 22.3
 - D. 19.5

Question ID : 630680177955
Status : Answered
Chosen Option : A

Q.16 निम्नलिखित आलेख कारों के उत्पादन को हजारों में दर्शाता है।



कितनी कंपनियों में, 2018-2019 में उनके औसत उत्पादन से अधिक उत्पादन हुआ है, लेकिन 2019-2020 में औसत उत्पादन से कम उत्पादन हुआ है?

- Ans
- A. दो
 - B. चार
 - C. एक
 - D. तीन

Question ID : 630680178019
Status : Not Answered
Chosen Option : --

Q.17 8 आदमी एक कार्य को 12 दिनों में पूरा कर सकते हैं। उन्होंने कार्य आरंभ किया और 5 दिनों के बाद 5 आदमी चले गए। शेष आदमी कितने दिनों में कार्य को पूरा करेंगे?

Ans

✓ A. $18\frac{2}{3}$

✗ B. $25\frac{1}{3}$

✗ C. $20\frac{1}{3}$

✗ D. $23\frac{2}{3}$

Question ID : 630680178006

Status : Answered

Chosen Option : A

Q.18 त्रिभुज PQR में, लम्ब PM, QN और RL केंद्र O पर मिलते हैं। यदि $\angle Q = 54^\circ, \angle R = 76^\circ$, तो $\angle QOR$ की माप क्या है?

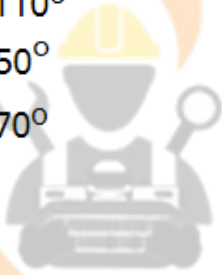
Ans

✓ A. 130°

✗ B. 110°

✗ C. 50°

✗ D. 70°



Question ID : 630680178042

Status : Not Answered

Chosen Option : --

Q.19 एक व्यक्ति 90 km की यात्रा 2 घंटों में करता है और अगले 150 km की यात्रा 3 घंटों में करता है। उस व्यक्ति की औसत चाल (km/h में) क्या है?

Ans

✗ A. 56

✗ B. 60

✓ C. 48

✗ D. 52

Question ID : 630680177959

Status : Answered

Chosen Option : C

Q.20 किसी प्रकाश के स्रोत से एक सतह पर गिरने वाली रोशनी की तीव्रता, स्रोत से सतह की दूरी के घन के व्युत्क्रमानुपाती होती है। कागज के एक टुकड़े को स्रोत से 4 गुना दूर ले जाने पर क्या प्रभाव होगा?

- Ans
- A. तीव्रता 64 गुना हो जाएगी
 - B. तीव्रता 16 से विभाजित हो जाएगी
 - C. तीव्रता 16 गुना हो जाएगी
 - D. तीव्रता 64 से विभाजित हो जाएगी

Question ID : 630680177989
Status : Answered
Chosen Option : A

Q.21 एक समकोण त्रिभुज की भुजाओं की लंबाई, संख्याओं 3, 4 और 5 के समानुपाती है। त्रिभुज की सबसे बड़ी भुजा, सबसे छोटी भुजा से 4 cm अधिक है। त्रिभुज का क्षेत्रफल (cm^2 में) क्या होगा?

- Ans
- A. 12
 - B. 10
 - C. 16
 - D. 24

Question ID : 630680178034
Status : Answered
Chosen Option : D

Q.22 एक वृत्त के केंद्र से 6 cm की दूरी पर 36 cm लंबी एक जीवा खींची जाती है। वृत्त की त्रिज्या (cm में) लगभग क्या है?

- Ans
- A. 15
 - B. 12
 - C. 23
 - D. 19

Question ID : 630680178036
Status : Answered
Chosen Option : D

Q.23 नीचे दी गई तालिका का अध्ययन कीजिए और उसके नीचे दिए गए प्रश्न का उत्तर दीजिए।

यह तालिका एक संगठन के विभिन्न विभागों के कर्मचारियों की कुल संख्या तथा महिलाओं और पुरुषों का प्रतिशत दर्शाती है।

विभाग	कर्मचारियों की कुल संख्या	पुरुषों का %	महिलाओं का %
IT	560	65	35
लेखा	480	55	45
उत्पादन	800	30	70
HR	540	60	40
विपणन	360	40	60
ग्राहक सेवा	600	50	50

लेखा और विपणन विभाग में मिलाकर पुरुष कर्मचारियों की कुल संख्या कितनी है?

- Ans
- A. 364
 - B. 408
 - C. 286
 - D. 320

Question ID : 630680178015

Status : Answered

Chosen Option : B

Q.24 यदि त्रिभुज का केन्द्रक और दो शीर्ष क्रमशः $(1, 13/3)$, $(4, 5)$ और $(-1, 1)$ हैं, तो त्रिभुज का क्षेत्रफल (वर्ग इकाइयों में) कितना है?

- Ans
- A. 13
 - B. 18
 - C. 15
 - D. 14

INDIA

Question ID : 630680178030

Status : Not Answered

Chosen Option : --

Q.25 एक विद्यार्थी 20% अंक प्राप्त करता है और 40 अंकों से अनुत्तीर्ण हो जाता है जबकि 32% अंक प्राप्त करने वाला एक अन्य विद्यार्थी, न्यूनतम आवश्यक उत्तीर्ण अंकों से 47 अंक अधिक प्राप्त करता है। परीक्षा के अधिकतम अंक (पूर्णांक) क्या हैं?

- Ans
- A. 750
 - B. 600
 - C. 725
 - D. 650

Question ID : 630680177967

Status : Not Answered

Chosen Option : --